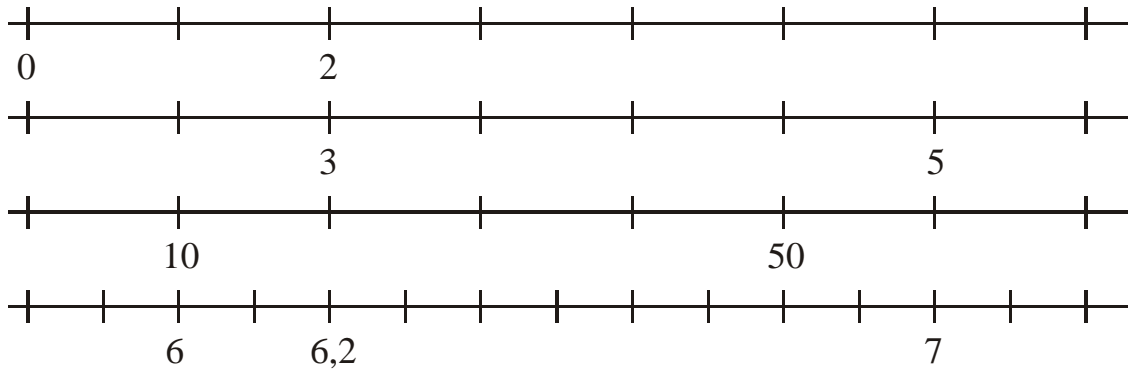


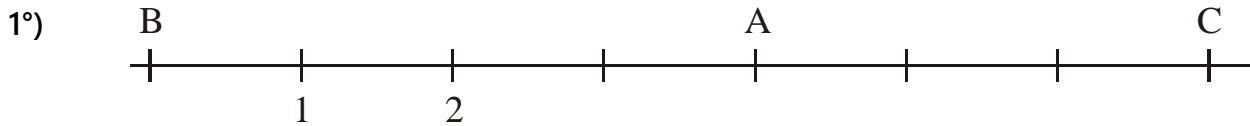
Exercice n°1

Place les graduations manquantes.

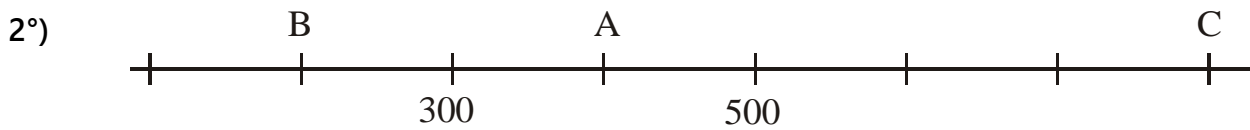


Exercice n°2

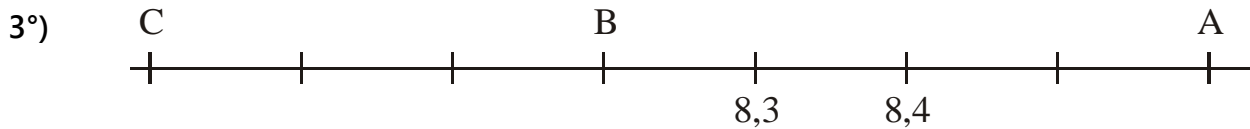
Lis les abscisses des points placés sur la droite.



L'abscisse du point A est : ... l'abscisse du point B est : ... l'abscisse du point C est : ...



L'abscisse du point A est : ... l'abscisse du point B est : ... l'abscisse du point C est : ...

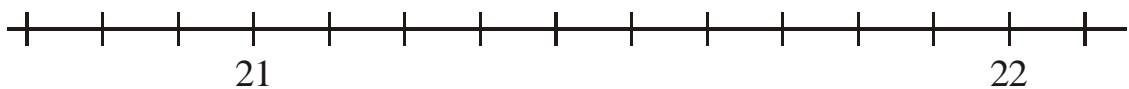


L'abscisse du point A est : ... l'abscisse du point B est : ... l'abscisse du point C est : ...

Exercice n°3

Placer les points sur la droite graduée.

1°) Le point A d'abscisse 21,4 ; le point B d'abscisse 22,1 ; le point C d'abscisse 20,8.



2°) Le point A d'abscisse 16 ; Le point B d'abscisse 14,2.

